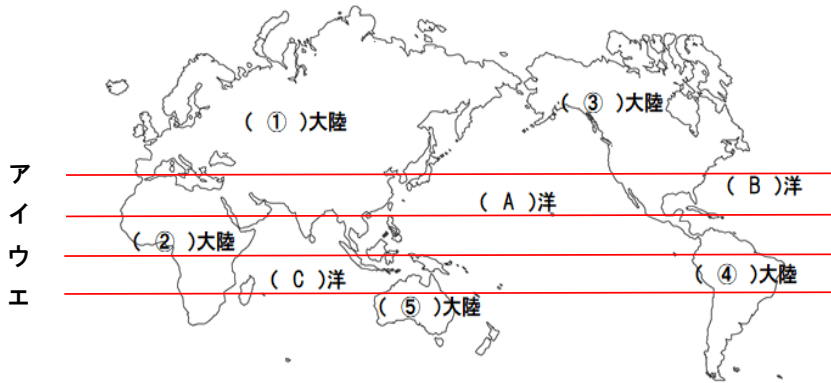




1 地球のすがた

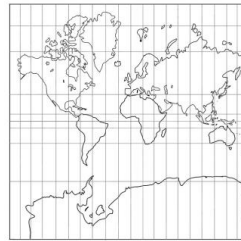


ア  
イ  
ウ  
エ

①  
②  
③  
④  
⑤

- (1) 上記の地図をみて、①～⑤に当てはまる大陸名を答えなさい。
- (2) 上記の地図上にない大陸名を答えなさい。
- (3) 上記の地図をみてA～Cに当てはまる海洋名を答えなさい。
- (4) 資料1の地図は、赤道からはなれるほど、実際よりも面積が( )く示されている。
- (5) 面積が正しい地図は資料1～資料3のどれか。
- (6) 中心からの距離と方位が正しい地図は資料1～資料3のどれか。
- (7) 資料4のアの方位。
- (8) 資料4のイの方位。
- (9) 資料4のウの方位。
- (10) 資料4のエの方位。
- (11) 資料4のオの方位。
- (12) 資料4のカの方位。
- (13) 資料4のキの方位。
- (14) 資料4のクの方位。
- (15) 赤道より北の緯度。
- (16) 赤道より南の緯度。
- (17) ロンドンのグリニッジ天文台を通る経線。
- (18) 赤道の位置で正しいものを上記の地図のア～エから選び記号で答えなさい。
- (19) スペイン語で「赤道」という意味の国名。
- (20) 東京の位置はおおよそ東経( ① )度、北緯( ② )度。

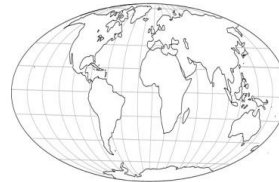
資料1



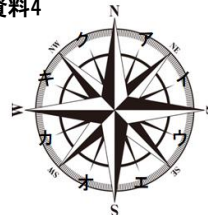
資料2



資料3



資料4



A  
B  
C

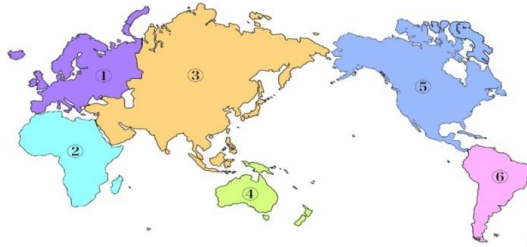
① ②

2 地球儀と世界地図

3 地球上の位置



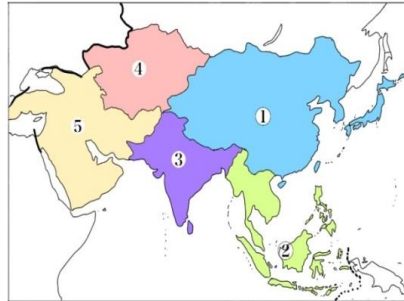
- (21) 地図上の①の州名。 資料5
- (22) 地図上の②の州名。
- (23) 地図上の③の州名。
- (24) 地図上の④の州名。
- (25) 地図上の⑤の州名。
- (26) 地図上の⑥の州名。
- (27) 国が成り立つ3つの条件。



- ① \_\_\_\_\_
- ② \_\_\_\_\_
- ③ \_\_\_\_\_
- ④ \_\_\_\_\_
- ⑤ \_\_\_\_\_
- ⑥ \_\_\_\_\_

- (28) 面積が最大の国。
- (29) 世界には約何か国の国があるか。
- (30) 資料6の①の州名。
- (31) 資料6の②の州名。
- (32) 資料6の③の州名。
- (33) 資料6の④の州名。
- (34) 資料6の⑤の州名。

資料6 アジア州の区分



- ① \_\_\_\_\_
- ② \_\_\_\_\_
- ③ \_\_\_\_\_
- ④ \_\_\_\_\_
- ⑤ \_\_\_\_\_

- (35) ヨーロッパの人々は日本や中国などの東アジアの国々を何と呼ぶことがあるか。
- (36) インダス川からとられた国名。
- (37) 「山国」の意味の国名。
- (38) カンプー(3世紀ごろの僧)の子孫の意味の国名。
- (39) 16世紀のスペインの皇太子フィリペの名前からとられた国名。
- (40) 「ライオンの町」という意味の国名。
- (41) 「強い勇敢な人」という意味の国名。
- (42) イタリアのローマ市内にある、人口が約800人、面積は世界最小の約0.44km<sup>2</sup>の国名。
- (43) 国と国の境界のこと。
- (44) アフリカ州には、まっすぐな(43)線が多くみられるが、これはなぜか。
- (45) 日本のように国土が海洋に囲まれている国々。
- (46) 国土が全く海に面していない国々。

- \_\_\_\_\_
- \_\_\_\_\_
- \_\_\_\_\_
- \_\_\_\_\_
- \_\_\_\_\_
- \_\_\_\_\_
- \_\_\_\_\_
- \_\_\_\_\_
- \_\_\_\_\_
- \_\_\_\_\_
- \_\_\_\_\_
- \_\_\_\_\_
- \_\_\_\_\_
- \_\_\_\_\_
- \_\_\_\_\_

日付	1回目
／	

日付	2回目
／	

日付	3回目
／	

