



まとめテスト1



対称な図形

得点
100点

1 図は線対称な図形です。次の問いに答えなさい。(1問10点×3=30点)

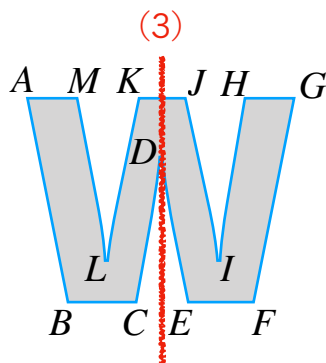
(1) 点C, 点Hに対応する点はどこか。

点C (点E) 点H (点M)

(2) 直線BC, 直線IJに対応する直線はどこか。

直線BC (直線FE) 直線IJ (直線LM)

(3) 対称な軸を見つけ、かきいれましょう。



2 図は点対称な図形です。次の問いに答えなさい。(1問10点×3=30点)

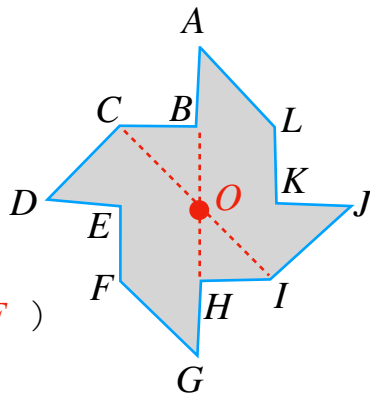
(1) 点E, 点Iに対応する点はどこか。

点E (点K) 点I (点C)

(2) 直線CD, 直線KLに対応する直線はどこか。

直線CD (直線IJ) 直線KL (直線EF)

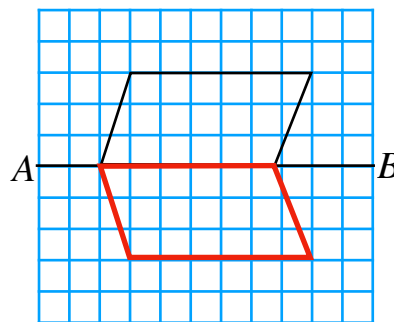
(3) 対称の中心Oを見つけ、かきいれましょう。



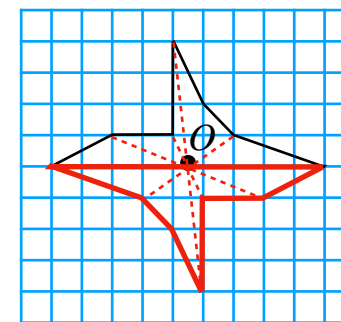
3 下の図で①は線対称な図形, ②は点対称な図形をかきましょう。

(1問10点×2=20点)

① 直線ABが対称の軸

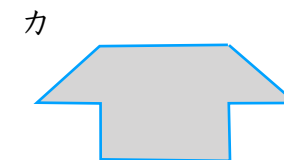
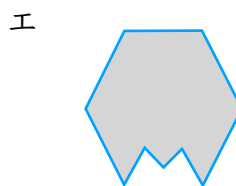

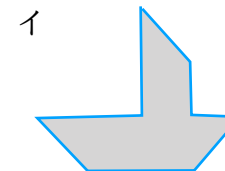
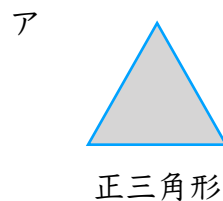


② 点Oが対称の中心



4 図で線対称な図形はどれか。また, 点対称な図形はどれですか。記号ですべて答えなさい。

(1問10点×2=20点)



線対称 (ア, ウ, エ, オ, カ) 点対称 (ウ, オ)