
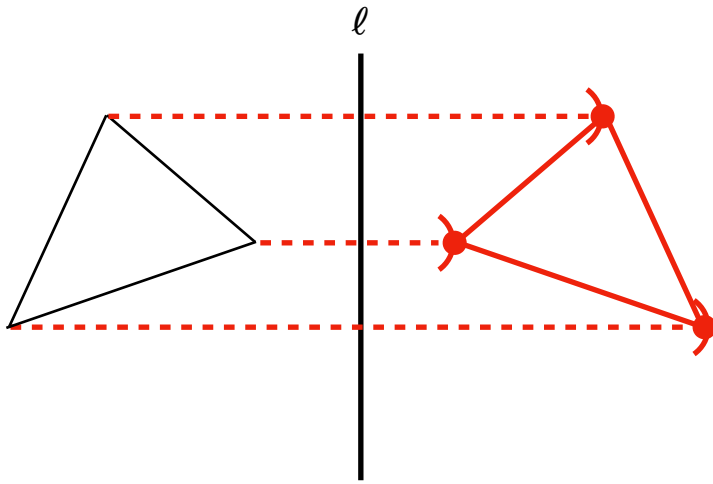


例題 5



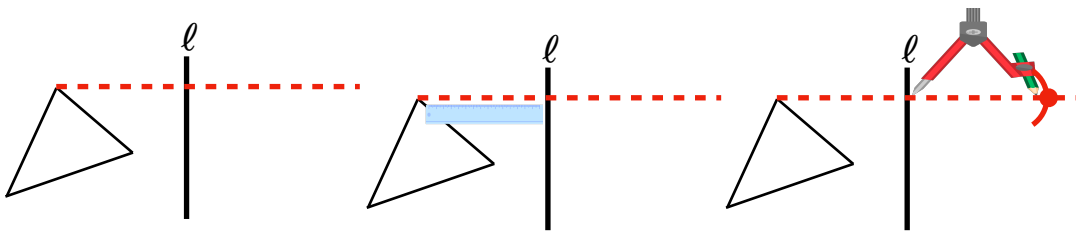
線対称の図形をかく

次の図は、直線 l を対称の軸とした線対称な図形の半分です。
残りの半分からコンパスや定規を使ってかきましょう。



とき方

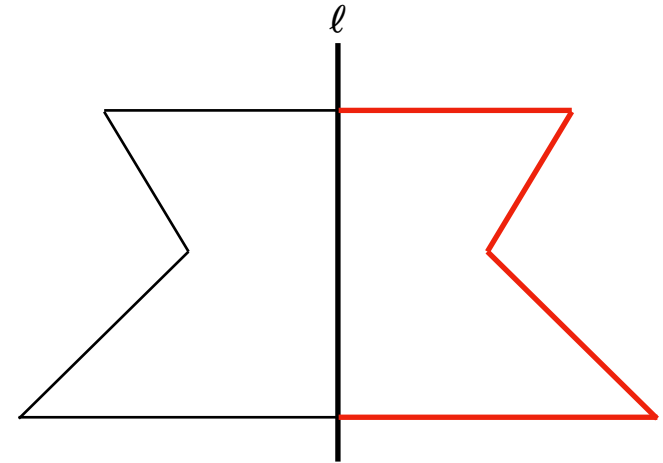
- ① 対称な軸に対して 垂直な線をかく
- ② 対称の軸までの長さを定規ではかる
- ③ ②ではかった長さをコンパスではかり、点をうつ



練習問題 5

次の図は、直線 l を対称の軸とした線対称な図形の半分です。
残りの半分コンパスや定規を使ってかきましょう。

(1)



(2)

