



まとめテスト1



対称な図形

得点
100点

1 図は線対称な図形です。次の問いに答えなさい。(1問10点×3=30点)

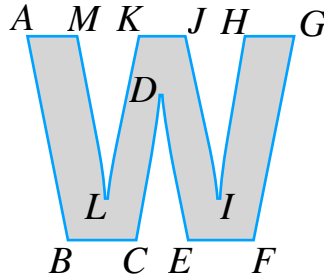
(1) 点C, 点Hに対応する点はどこか。

点C () 点H ()

(2) 直線BC, 直線IJに対応する直線はどこか。

直線BC () 直線IJ ()

(3) 対称な軸を見つけ、かきいれましょう。



2 図は点対称な図形です。次の問いに答えなさい。(1問10点×3=30点)

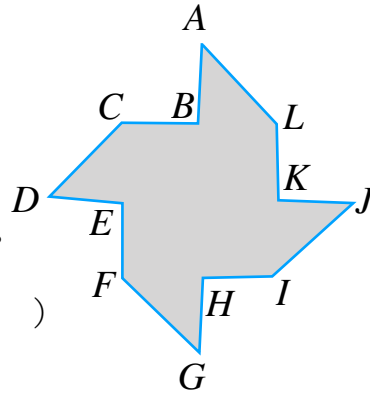
(1) 点E, 点Iに対応する点はどこか。

点E () 点I ()

(2) 直線CD, 直線KLに対応する直線はどこか。

直線CD () 直線KL ()

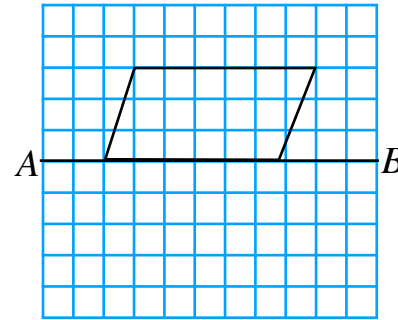
(3) 対称の中心Oを見つけ、かきいれましょう。



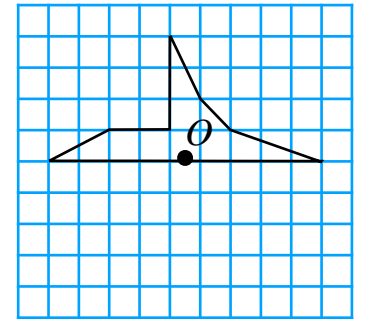
3 下の図で①は線対称な図形, ②は点対称な図形をかきましょう。(1問10点×2=20点)

(1問10点×2=20点)

① 直線ABが対称の軸



② 点Oが対称の中心

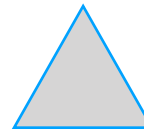


4 図で線対称な図形はどれか。また、点対称な図形はどれですか。

記号ですべて答えなさい。(1問10点×2=20点)

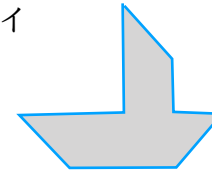
(1問10点×2=20点)

ア




正三角形

イ




ウ



円

エ




オ



正方形

カ



線対称 () 点対称 ()