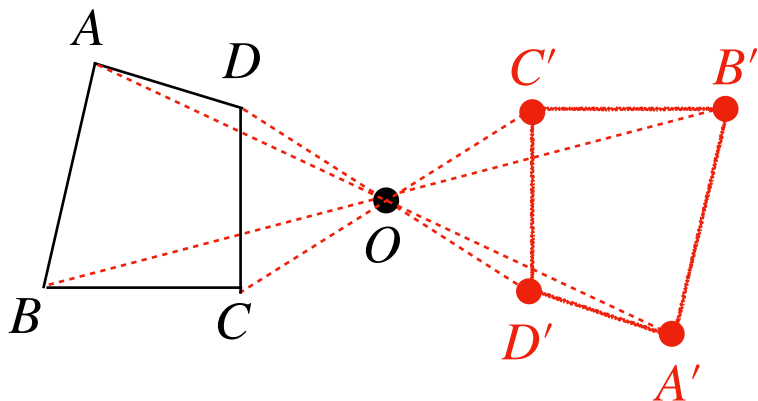


例題 5



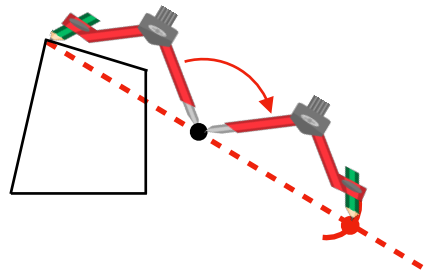
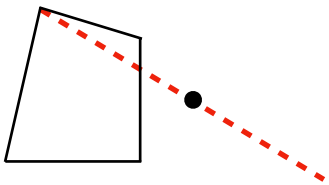
点対称の図形をかく

次の図は、点 O を対称の点とした点対称な図形の半分です。
残りの半분을コンパスや定規を使ってかきましょう。



とき方


- ① 対称な点を通る直線をかく
- ② 対称な点に針をおき、対応する点からコンパスではかり、その反対に点をうつ



練習問題 5

次の図は、点 O を対称の点とした点対称な図形の半分です。
残りの半분을コンパスや定規を使ってかきましょう。

(1)



(2)

