
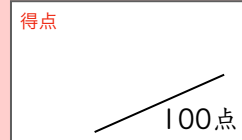


まとめテスト2



ひょう 表とグラフ



1 1週間に学校を休んだ人の人数を調べました。

1問10点×4=40点

(1) 1日あたりは何人を表していますか。

答え ( )

(2) 休んだ人がいちばん多かったのは何曜日ですか。

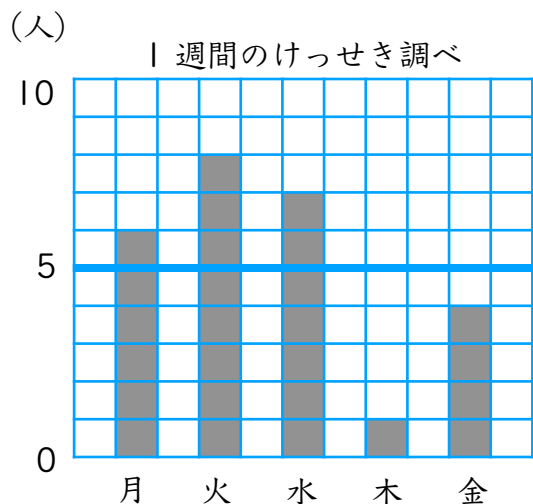
答え ( )

(3) 水曜日は何人、休みましたか。

答え ( )

(4) 金曜日の2倍の人が、休んだのは何曜日ですか。

答え ( )



2 下の表は、5月、6月、7月にそれぞれの組のけっせきした人数を、月ごとにまとめたものです。表の合計のらんにかずをかき、下のぼうグラフにかきましょう。

1問30点×2=60点

けっせき者数調べ(5～7月)

組 \ 月	5月	6月	7月	合計
1組	2	5	3	
2組	1	5	6	
合計				

( )

