



まとめテスト1

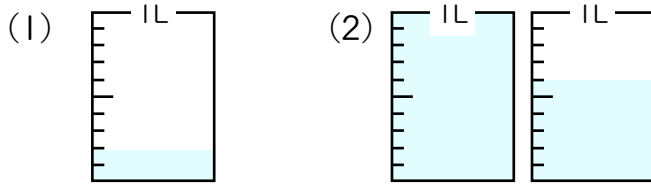


小数

得点

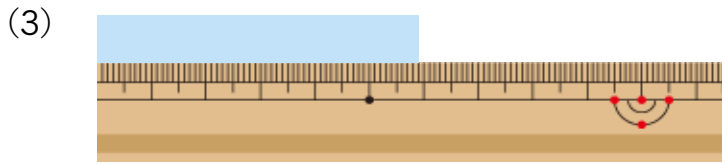
100点

1 つぎのかさや長さを小数で表しましょう。 1問2点×3=6点



0.2 L

1.6 L



5.9 cm

2 □ にあてはまる数をかきましょう。 1問3点×5=15点

(1) 7dL = 0.7 L

(2) 3L6dL = 3.6 L

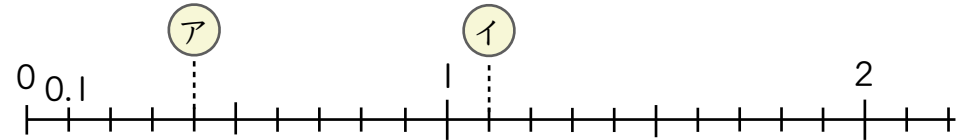
(3) 9.3L = 9 L 3 dL

(4) 0.8cm = 8 mm

(5) 8.2cm = 8 cm 2 mm

3 下の数直線で、ア、イ にあたる数をかきましょう。

1問2点×2=4点



ア (0.4) イ (1.1)

4 □ にあてはまる不等号をかきましょう。 1問2点×3=6点

(1) 0.7 > 0.6 (2) 3.2 < 4.1 (3) 0.3 > $\frac{2}{10}$

$2 \div 10 = 0.2$

5 □ にあてはまる数をかきましょう。

1問2点×5=10点

(1) 8と0.3をあわせた数は、8.3 です。

(2) 5より0.1小さい数は、4.9 です。

(3) 1を3こと0.1を9こあわせた数は、3.9 です。

(4) 0.1を72こ集めた数は、7.2 です。

(5) 2.8は0.1を28こ集めた数です。

6 次の計算をしましょう。

1問3点×6=18点

- (1) $0.1 + 0.7 = 0.8$ (2) $0.6 + 0.8 = 1.4$ (3) $5.5 + 0.5 = 6$
 (4) $0.8 - 0.4 = 0.4$ (5) $1 - 0.8 = 0.2$ (6) $1.2 - 0.7 = 0.5$

7 次の計算をしましょう。

1問3点×11=33点

- (1) $5.2 + 4.3 = 9.5$ (2) $3.5 + 3.8 = 7.3$ (3) $4.2 + 2.8 = 7$

$$\begin{array}{r} 5.2 \\ +4.3 \\ \hline 9.5 \end{array}$$

$$\begin{array}{r} 3.5 \\ +3.8 \\ \hline 7.3 \end{array}$$

$$\begin{array}{r} 4.2 \\ +2.8 \\ \hline 7.0 \end{array}$$

- (4) $8 + 3.7 = 11.7$ (5) $2.9 + 4 = 6.9$ (6) $9.1 + 2.9 = 12$

$$\begin{array}{r} 8 \\ +3.7 \\ \hline 11.7 \end{array}$$

$$\begin{array}{r} 2.9 \\ +4 \\ \hline 6.9 \end{array}$$

$$\begin{array}{r} 9.1 \\ +2.9 \\ \hline 12.0 \end{array}$$

- (7) $8.4 - 2.2 = 6.2$ (8) $4.5 - 2.7 = 1.8$ (9) $9.7 - 2.7 = 7$

$$\begin{array}{r} 8.4 \\ -2.2 \\ \hline 6.2 \end{array}$$

$$\begin{array}{r} 3 \quad 10 \\ \cancel{4} \quad 5 \\ -2.7 \\ \hline 1.8 \end{array}$$

$$\begin{array}{r} 9.7 \\ -2.7 \\ \hline 7.0 \end{array}$$

- (10) $6 - 3.4 = 2.6$ (11) $7.2 - 3 = 4.2$

$$\begin{array}{r} 5 \quad 10 \\ \cancel{6} \\ -3.4 \\ \hline 2.6 \end{array}$$

$$\begin{array}{r} 7.2 \\ -3 \\ \hline 4.2 \end{array}$$

8 ひろとさんとはるかさんは公園こうえんを走りました。ひろとさんは3.5km, はるかさんは1.6km走りました。



1問4点×2=8点

(1) 2人の走ったきよりはあわせて何kmですか。

式 $3.5 + 1.6 = 5.1$

答え (5.1km)

(2) どちらが何km多く走ったでしょう。

式 $3.5 - 1.6 = 1.9$

答え (ひろとさんが1.9km多く走った)