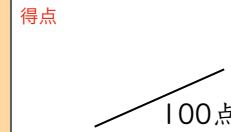




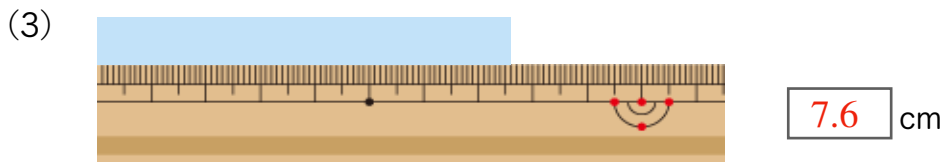
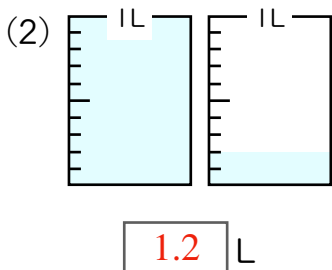
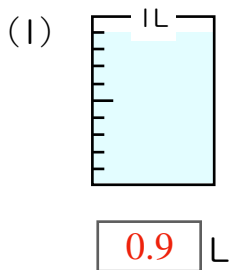
まとめテスト3



小数



1 つぎのかさや長さを小数で表しましょう。 1問2点×3=6点



2 にあてはまる数をかきましょう。 1問3点×5=15点

(1) $7dL =$ 0.7 L

(2) $3L6dL =$ 3.6 L

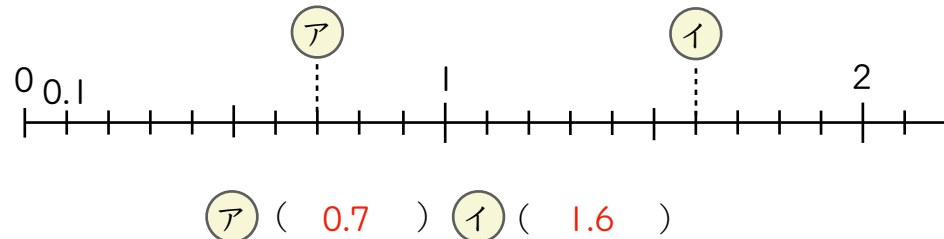
(3) $2.9L =$ 2 L 9 dL

(4) $0.1cm =$ 1 mm

(5) $8.8cm =$ 8 cm 8 mm

3 下の数直線で、ア , イ にあたる数をかきましょう。

1問2点×2=4点



4 にあてはまる不等号をかきましょう。 1問2点×3=6点

(1) 0.3 > 0.2 (2) 5.1 > 4.1 (3) 0.7 < $\frac{8}{10}$

$8 \div 10 = 0.8$

5 にあてはまる数をかきましょう。

1問2点×5=10点

(1) 5と0.1をあわせた数は、5.1 です。

(2) 7より0.1小さい数は、6.9 です。

(3) 1を3こと0.1を7こあわせた数は、3.7 です。

(4) 0.1を59こ集めた数は、5.9 です。

(5) 9.8は0.1を 98 こ集めた数です。

6 次の計算をしましょう。

1問3点×6=18点

- (1) $0.2 + 0.4 = 0.6$ (2) $0.5 + 0.8 = 1.3$ (3) $3.7 + 0.3 = 4$
 (4) $0.6 - 0.2 = 0.4$ (5) $1 - 0.2 = 0.8$ (6) $1.2 - 0.9 = 0.3$

7 次の計算をしましょう。

1問3点×11=33点

- (1) $2.6 + 4.3 = 6.9$ (2) $5.6 + 2.8 = 8.4$ (3) $1.7 + 6.3 = 8$

$$\begin{array}{r} 2.6 \\ +4.3 \\ \hline 6.9 \end{array}$$

$$\begin{array}{r} 5.6 \\ +2.8 \\ \hline 8.4 \end{array}$$

$$\begin{array}{r} 1.7 \\ +6.3 \\ \hline 8.0 \end{array}$$

- (4) $7 + 4.1 = 11.1$ (5) $5.3 + 8 = 13.3$ (6) $8.2 + 1.8 = 10$

$$\begin{array}{r} 7 \\ +4.1 \\ \hline 11.1 \end{array}$$

$$\begin{array}{r} 5.3 \\ +8 \\ \hline 13.3 \end{array}$$

$$\begin{array}{r} 8.2 \\ +1.8 \\ \hline 10.0 \end{array}$$

- (7) $8.9 - 2.7 = 6.2$ (8) $4.3 - 2.5 = 1.8$ (9) $7.6 - 2.6 = 5$

$$\begin{array}{r} 8.9 \\ -2.7 \\ \hline 6.2 \end{array}$$

$$\begin{array}{r} 3 \quad 10 \\ 4.3 \\ -2.5 \\ \hline 1.8 \end{array}$$

$$\begin{array}{r} 7.6 \\ -2.6 \\ \hline 5.0 \end{array}$$

- (10) $4 - 3.4 = 0.6$ (11) $7.2 - 3 = 4.2$

$$\begin{array}{r} 3 \quad 10 \\ 4 \\ -3.4 \\ \hline 0.6 \end{array}$$

$$\begin{array}{r} 7.2 \\ -3 \\ \hline 4.2 \end{array}$$

8 じんさんとしほさんは公園こうえんを走りました。じんさんは5.1km, しほさんは2.7km走りました。



1問4点×2=8点

(1) 2人の走ったきよりはあわせて何kmですか。

式 $5.1 + 2.7 = 7.8$ 答え (7.8km)

(2) どちらが何km多く走ったでしょう。

式 $5.1 - 2.7 = 2.4$
 答え (じんさんが2.4km多く走った)