

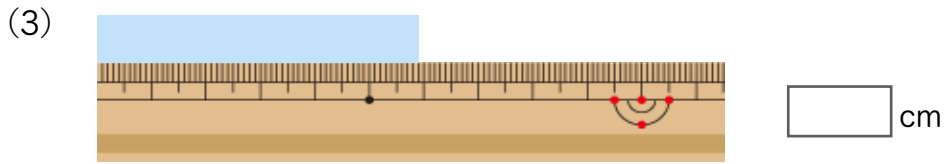
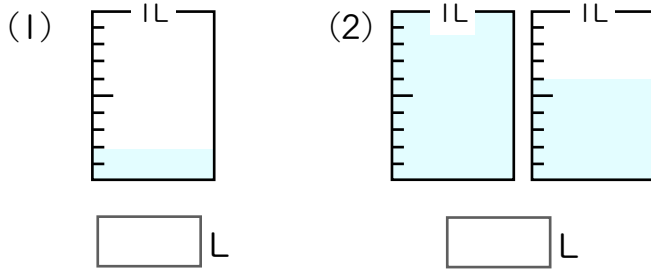
まとめテスト1



小数

得点
100点

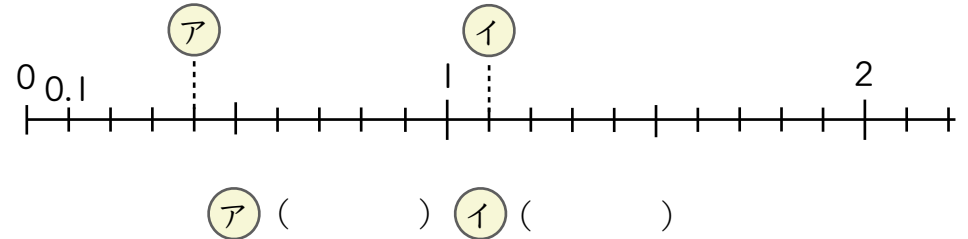
1 つぎのかさや長さを小数で表しましょう。 1問2点×3=6点



2 にあてはまる数をかきましょう。 1問3点×5=15点

- (1) $7dL = \text{} L$ (2) $3L6dL = \text{} L$
- (3) $9.3L = \text{} L \text{} dL$ (4) $0.8cm = \text{} mm$
- (5) $8.2cm = \text{} cm \text{} mm$

3 下の数直線で、ア、イ にあたる数をかきましょう。 1問2点×2=4点



4 にあてはまる不等号をかきましょう。 1問2点×3=6点

- (1) $0.7 \text{ } 0.6$ (2) $3.2 \text{ } 4.1$ (3) $0.3 \text{ } \frac{2}{10}$

5 にあてはまる数をかきましょう。 1問2点×5=10点

- (1) 8と0.3をあわせた数は、 です。
- (2) 5より0.1小さい数は、 です。
- (3) 1を3こと0.1を9こあわせた数は、 です。
- (4) 0.1を72こ集めた数は、 です。
- (5) 2.8は0.1を こ集めた数です。

6 次の計算をしましょう。

1問3点×6=18点

(1) $0.1 + 0.7 =$ (2) $0.6 + 0.8 =$

(3) $5.5 + 0.5 =$

(4) $0.8 - 0.4 =$ (5) $1 - 0.8 =$

(6) $1.2 - 0.7 =$

7 次の計算をしましょう。

1問3点×11=33点

(1) $5.2 + 4.3 =$ (2) $3.5 + 3.8 =$

(3) $4.2 + 2.8 =$

(4) $8 + 3.7 =$ (5) $2.9 + 4 =$

(6) $9.1 + 2.9 =$

(7) $8.4 - 2.2 =$ (8) $4.5 - 2.7 =$

(9) $9.7 - 2.7 =$

(10) $6 - 3.4 =$

(11) $7.2 - 3 =$

8 ひろとさんとはるかさんは公園^{こうえん}を走りました。ひろとさんは3.5km, はるかさんは1.6km走りました。



1問4点×2=8点

(1) 2人の走ったきよりはあわせて何kmですか。

式

答え ()

(2) どちらが何km多く走ったでしょう。

式

答え ()