



おなじ かずずつ

日にち(月 日 よう日)
なまえ()

れいだい1

子どもが 3人います。りんごを 1人に 2こずつ あげます。
みんなで なんこ いりますか。





式 $2 + 2 + 2 = 6$

答え (6こ)

れいだい2

チョコレートが 8こ あります。1人に 2こずつ あげると、
なん人に あげられますか。

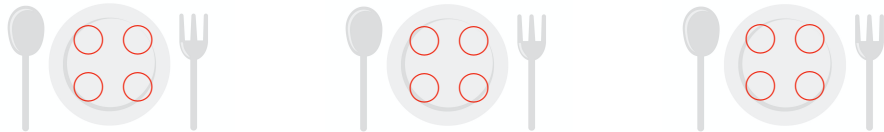


 を2こずつ ○で かこみましょう。

答え (4人)

れんしゅうもんだい

(1) 3人の 子どもに いちごを 4こずつ あげます。
みんなでなんこいりますか。



式 $4 + 4 + 4 = 12$ 答え (12こ)


(2) 5人の 子どもに バナナを 2本ずつ あげます。
みんなで なん本 いりますか。



式 $2 + 2 + 2 + 2 + 2 = 10$ 答え (10本)

れんしゅうもんだい

クッキー 12こ おなじかずずつ わけます。



(1) 3人では 1人に なんこずつですか。
答え (4こ)

(2) 6人では 1人に なんこずつですか。
答え (2こ)