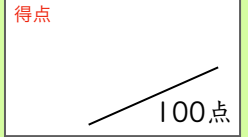





まとめテスト2




おなじ かずずつ



1 4人の 子どもに みかんを 5こずつ あげます。
 みんなでなんこいりますか。  1問20点

式 $5 + 5 + 5 + 5 = 20$ 答え (20こ)

2 3人の 子どもに さくらんぼを 2こずつ あげます。
 みんなで なんこ いりますか。 1問20点 

式 $2 + 2 + 2 = 6$ 答え (6こ)

3 ケーキが 8こ あります。1人に 2こずつ あげると、
 なん人に あげられますか。 1問20点



答え (4人)

4 クッキー 12こ おなじかずずつ わけます。 1問20点×2=40点



(1) 2人では 1人に なんこずつですか。
 答え (6こ)

(2) 6人では 1人に なんこずつですか。
 答え (2こ)