

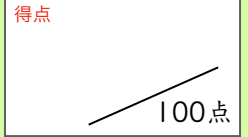
おなじ かずずつ




まとめテスト3




おなじ かずずつ




1 3人の 子どもに りんごを 4こずつ あげます。
 みんなでなんこいりますか。  1問20点


式 $4 + 4 + 4 = 12$ 答え (12こ)

2 6人の 子どもに さくらんぼを 4こずつ あげます。
 みんなで なんこ いりますか。 1問20点 

式 $4 + 4 + 4 + 4 + 4 + 4 = 24$ 答え (24こ)

3 チョコレートが 8こ あります。1人に 2こずつ あげると、
 なん人に あげられますか。 1問20点



 を2こずつ ○で かこみましょう。

答え (4人)

4 クッキー 12こ おなじかずずつ わけます。 1問20点×2=40点



(1) 2人では 1人に なんこずつですか。
 答え (6こ)

(2) 6人では 1人に なんこずつですか。
 答え (2こ)